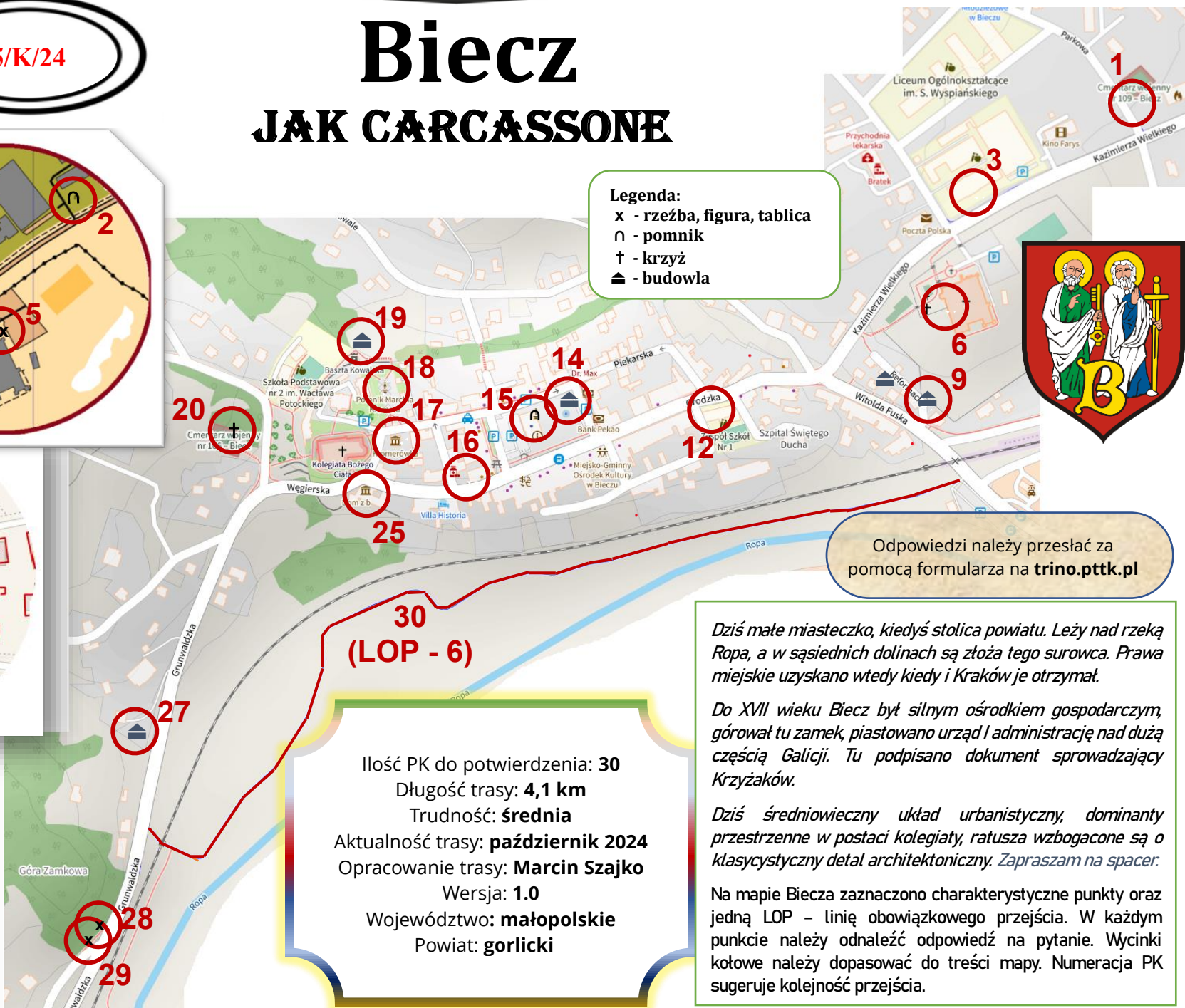
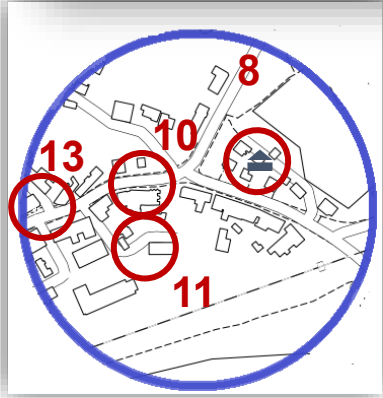
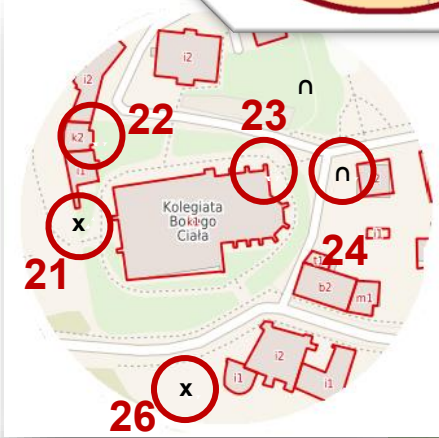
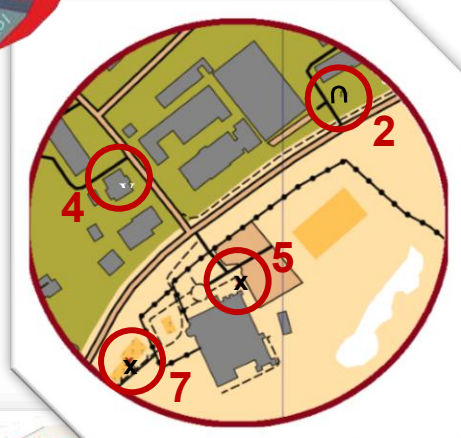




5/K/24

Biecz JAK CARCASSONE

Legenda:
x - rzeźba, figura, tablica
n - pomnik
† - krzyż
▲ - budowla



Odpowiedzi należy przesłać za pomocą formularza na trino.pttk.pl

Ilość PK do potwierdzenia: **30**
Długość trasy: **4,1 km**
Trudność: **średnia**
Aktualność trasy: **październik 2024**
Opracowanie trasy: **Marcin Szajko**
Wersja: **1.0**
Województwo: **małopolskie**
Powiat: **gorlicki**

Dzisiaj małe miasteczko, kiedyś stolica powiatu. Leży nad rzeką Ropa, a w sąsiednich dolinach są złoża tego surowca. Prawa miejskie uzyskano wtedy kiedy i Kraków je otrzymał.

Do XVII wieku Biecz był silnym ośrodkiem gospodarczym, górował tu zamek, piastowano urząd i administrację nad dużą częścią Galicji. Tu podpisano dokument sprowadzający Krzyżaków.

Dzisiaj średniowieczny układ urbanistyczny, dominanty przestrzenne w postaci kolegiaty, ratusza wzbogacone są o klasycystyczny detal architektoniczny. Zapraszam na spacer.

Na mapie Bieczy zaznaczono charakterystyczne punkty oraz jedną LOP – linię obowiązkowego przejścia. W każdym punkcie należy odnaleźć odpowiedź na pytanie. Wycinki kotowe należy dopasować do treści mapy. Numeracja PK sugeruje kolejność przejścia.

Turystyczno-Rekreacyjna Impreza na Orientację (5/K/24)

PK 1	<i>Cmentarz wojenny nr 109 w Bieczu. Przy wejściu znajduje się tablica informacyjna.</i> Podaj numer armii Austro-Węgierskiej.
PK 2	<i>Prze kinem Farys leżą glazy z nazwami poszczególnych filmów polskich.. Na jednym z nich umieszczono tytuły: Miś, Kiler ...</i> Jaki tytuł ma trzeci film?
PK 3	<i>Budynek Zespołu Szkół Zawodowych im. św. Jadwigi Królowej.</i> Dopasuj zdjęcie?
PK 4	<i>Budynek mieszkalny przy ul. Tysiąclecia 1.</i> Podaj rok budowy widoczny na frontowej ścianie.
PK 5	<i>Klasztor Franciszkanów i Parafia pw. św. Anny w Bieczu. Przed budynkiem znajduje się figura.</i> Czym patronem jest święty?
PK 6	<i>Tablica pamiątkowa poświęcona wielkiemu synowi Ziemi Bieckiej - Wacławowi Potockiemu.</i> O jakiej wojnie pisał dzieło literackie?
PK 7	<i>Cmentarz wojenny nr 108 w Bieczu.</i> Ile mogił zbiorowych znajduje się na cmentarzu?
PK 8	<i>Barokowa Kapliczka św. Michała Archaniola.</i> Jaki przedmiot znajduje się w najwyższym otworze w elewacji frontowej?
PK 9	<i>Murowana kapliczka NMP</i> Ile postaci przedstawiono na obrazie na kapliczce?
PK 10	<i>Budynek mieszkalno-usługowy z detalami architektonicznymi.</i> Dopasuj zdjęcie.
PK 11	<i>Historyczny budynek Szpitala Świętego Ducha w Bieczu.</i> Ile zamurowanych okien znajduje się nad godłem?
PK 12	<i>Budynek Szkoły Podstawowej nr 1 w Bieczu.</i> Dopasuj zdjęcie.
PK 13	<i>Tablica pamiątkowa pamięci bieckich farmaceutów.</i> Podaj nazwę apteki założonej przez jednego z farmaceutów.
PK 14	<i>Drewniana figura św. Floriana.</i> Ile okien ma płonący budynek?
PK 15	<i>Biecki Kat, tablica historyczna oraz figura po wschodniej stronie budynku ratusza.</i> W którym roku kat wykonał najwięcej wyroków śmierci?
PK 16	<i>Budynek restauracji, kawiarni i hotelowy. Na piętrze w zachodniej części elewacji widnieje napis..</i> Jaki napis?
PK 17	<i>Budynek Muzeum Ziemi Bieckiej. Niegdyś w tym budynku przyszedł na świat Marcin Kromer.</i> Jaki biskup?
PK 18	<i>Pomnik bp. Marcina Kromera w Bieczu</i> Jaka epoka została przywołana w podpisie pomnika?
PK 19	<i>Za barbakanem I basztą kowalską mieści się amfiteatr.</i> Ile kręgów zaprojektowano w ramach sceny?
PK 20	<i>Cmentarz wojenny nr 106 w Bieczu</i> Który rok widnieje na grobach w północno zachodniej części cmentarza za drzewem?
PK 21	<i>Mogiła harcerska.</i> Podaj nazwisko ostatniego wymienionego druha na tablicy pamiątkowej.
PK 22	<i>Budynek dawnego kościoła Św. Barbary..</i> Dopasuj zdjęcie.
PK 23	<i>Kościół Bożego Ciała w Bieczu – czołowy zabytek późnogotyckiej architektury w Małopolsce.</i> Jaką część opisano jako rzadki zabytek z 1633 roku ?
PK 24	<i>Popiersie D.O.M. Tadeusza Ślawnego.</i> Ile lat był dyrektorem ?
PK 25	<i>Dom z basztą / Kamienica Barianów Rokickich – jedno z ciekawszych muzeów w tej części kraju.</i> Wejście do piwnic od strony zachodniej jest okratowane. Który rok jest ukryty w strukturze bramy?
PK 26	<i>Beczka upamiętniająca fakt magazynowania dużych ilości win węgierskich.</i> Ile beczek wykazała kontrola zawartości piwnic z 1628 roku?
PK 27	<i>Odrestaurowana kapliczka w dolinie przed zamczyskiem.</i> Ile kątów wewnętrznych ma figura tworząca ścianę frontową dachu?
PK 28	<i>Dwie tablice upamiętniająca wiekopomne zwycięstwo oręża polskiego.</i> Pamięć jakiej bitwy upamiętniono?
PK 29	<i>Tablica pomnika historii opisująca Górę Zamkową.</i> Kto rozważał przeniesienie stolicy do Biecza?
PK 30	<i>Deptak nad brzegiem rzeki Ropa. Widok na wzgórze staromiejskie, linię kolejową oraz dolinę rzeki.</i> Idąc z zachodu na wschód, uporządkuj w napotykaną kolejności zdjęcia.

Zgodnie z Rozporządzeniem Parlamentu Europejskiego i Rady (UE) 2016/67 z dnia 27 kwietnia 2016 r. w sprawie ochrony osób fizycznych w związku z przetwarzaniem danych osobowych i w sprawie swobodnego przepływu takich danych oraz uchylenia dyrektywy 95/46 (ogólne rozporządzenie o ochronie danych, tzw. RODO), przesyłający wyraża zgodę na publikację na liście osób, które przebyły trasę TRInO na stronie internetowej

A**B****C**

Mrówka rudnica
(*Formica rufa*)

D**E****F****G****H****I****J****K**